

# 2 下 階段評估 (一)

(包含 2 下 A 單元 1 至 3 的學習內容)

建議時間：30 分鐘

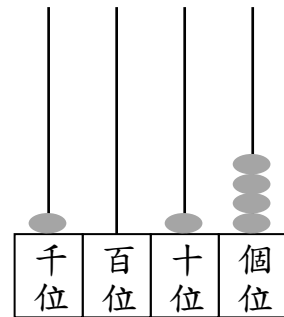
姓名：\_\_\_\_\_

班別：\_\_\_\_\_ ( )

日期：\_\_\_\_\_

成績：\_\_\_\_\_/29

- ① 右圖算柱所表示的數是 1014。



(1 分)

- ② 在「6271」這個數中，哪個數字在千位？

(1 分)

○ A. 1      ○ B. 2      ● C. 6      ○ D. 7

- ③ 依指示填一填。

(a) 倒數：6538，6537，6536，6535，6534

全對才給分

(1 分)

(b) 順數：3107，3108，3109，3110，3111

全對才給分

(1 分)

- ④

4872

?

5471

(最小)

(最大)

上面三張數卡由小至大排列，以下哪一個可能是中間的數？(1 分)

○ A. 4391

○ B. 4693

● C. 5106

○ D. 5736

⑤ 依規律填填看。

(a) 4500, 4000, 3500, 3000, 2500, 2000 全對才給分 (1 分)

(b) 1000, 2000, 3000, 4000, 5000, 6000 全對才給分 (1 分)

(c) 6750, 6500, 6250, 6000, 5750, 5500 全對才給分 (1 分)

(d) 7800, 8000, 8200, 8400, 8600, 8800 全對才給分 (1 分)

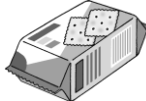
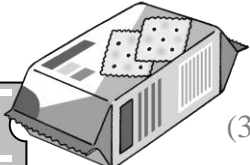
⑥  $385 - 75 = \underline{310}$  (1 分)

⑦  $604 - 249 = \underline{355}$  (1 分)

⑧  $917 - 198 - 423 = \underline{296}$  (1 分)

⑨ 一盒飛機模型售 285 元，建邦有 166 元，他想買一盒飛機模型，還欠 119 元。  
 $285 - 166$  (1 分)

⑩ 水果店原有 468 個蘋果和 269 個橙。上午賣出 167 個橙後，餘下 102 個橙。  
 $269 - 167$  (1 分)

⑪ 午餐肉比  貴 14 元 7 角，  
午餐肉售多少元？(列式計算)  (3 分)

\$13.90

$13 \text{ 元 } 9 \text{ 角 } + 14 \text{ 元 } 7 \text{ 角}$   
 $= 28 \text{ 元 } 6 \text{ 角}$   
午餐肉售 28 元 6 角。

⑫ 下面是快餐店昨天售出各款午餐的數量。

午餐	A	B	C	D
售出數量 (份)	175	139	63	138

售出最多和最少的兩款午餐，售出的數量相差多少份？

(列式計算)

(3 分)

$$\begin{aligned} & 175 - 63 \\ & = 112 \\ & \text{售出的數量相差 } 112 \text{ 份。} \end{aligned}$$

⑬







媽媽有 625 個印花，換領一個茶壺和一個茶杯後，餘下印花多少個？(列式計算)

(3 分)

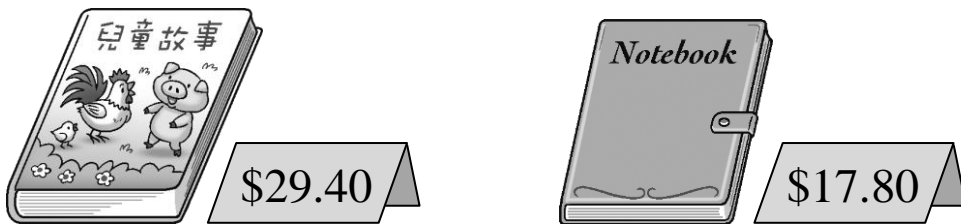
$$\begin{aligned} & 625 - 288 - 143 \\ & = 337 - 143 \\ & = 194 \\ & \text{餘下印花 } 194 \text{ 個。} \end{aligned}$$


或其他合理算法



⑭ 1 張  可換成 2 張 。(1 分)



⑮ 2 張  可換成 10 張 。(1 分)


⑯



(a)  的售價是 29 元 4 角。(1 分)

(b)  比  便宜 11 元 6 角。  
29 元 4 角 - 17 元 8 角 = 11 元 6 角 (1 分)

(c) 買一本  和一本  共需付  
47 元 2 角。29 元 4 角 + 17 元 8 角 = 47 元 2 角 (1 分)

(d) 購買一本 , 應付款多少? 圈出需付的貨幣。(1 分)



或其他合理答案

— 全卷完 —

19TEST220.1T  
19TEST220.1S